

Uitwerking Analyses

Naar Berry Westra


1.

♠ V 9 8 2

♥ A 7

♦ H V 6 4

♣ H V 6



♠ A H B 10 7 3

♥ 6 3

♦ 9 8 5

♣ A 3

West Noord Oost Zuid

1♦ 2♠

Pas 4SA pas 5♠

Pas 6♠ pas pas

pas

West start ♦ 10. Dummy's ♦ H is voor het aas van Oost.

Oost speelt ♥ H na

1. Hoeveel punten mis je en hoe zitten die verdeeld? 0-12

2. Wie heeft ♥ V en ♦ B? oost

3. Hoeveel verliezers heb je? 2

4. Wat wordt het speelplan

Speel dan ♦ V: als ♦ 7 valt , Heb je in dummy 64 tegen B3 bij Oost, en kun je 1 ♦ vrij troeven voor een ♥ discard.

2.

♠ B 9 7 3
 ♥ 6 3 2
 ♦ 9 8 7 4
 ♣ 6 5

♠ V 4
 ♥ A V B 10 8 7
 ♦ B 6
 ♣ A H 2

West Noord Oost Zuid

1♠ pas 1SA doublet
 2♦ pas 2♠ 3♥
 Pas pas pas


West start ♦A en ♦H en ♦ na voor de Vrouw van Oost, door Zuid getroefd . Zuid speelt nu ♣ AH en ♣ 2 getroefd in dummy (iedereen bekent).

1. Hoeveel punten mis je en hoe zitten die verdeeld **22: 6/9 vs 13/16**
2. Welke verdeling heeft West? Max 1♥
3. Hoe speel je de troefkleur?

De kans dat de H in de 3-kaart zit is groter dan H sec. Maar! Je kunt maar 1x snijden , daarom toch slaan!

3

♠ H 2
♥ 8 3 2
♦ H 7 4
♣ A H 9 4 3



♠ V B 7 3
♥ A V
♦ A 8 6 2
♣ 8 5 2

West Noord Oost Zuid

1♥ doublet

pas 2♥* pas 2♠
Pas 3♣ pas 3SA allen

passen

* : forcing cue bod (kracht tonend)

West start ♥7 , Oost ♥ H en Zuid ♥ A

1. Hoeveel punten mis je en hoe
zitten die verdeeld **12+ vs 2-**

2. Welke vaste slagen heb je? **6**

3. Wat is jouw speelplan?

**Alle hoge kaarten bij Oost. Ga naar dummy en speel ♠ 2.
Als Oost neemt, heb je al 3 slagen. Zo niet dan nog maar
2 nodig, schakel over op ♣**

4. ♠ V 8 7 5 3
 ♥ 10
 ♦ A 9 3
 ♣ A B 7 2

♠
 ♥ A V 7
 ♦ V 10 8 7 6 5 4
 ♣ H 10 8

West Noord Oost Zuid

4♠ 5♦

pas 6♦ pas pas

Pas

West start ♠ 10, getroefd in Zuid.

Vervolgens: ♥A en ♥ getroefd (oost gooit ♠ bij). ♠ getroefd (west gooit ♥ bij), ♥ V getroefd, weer ♠ getroefd en overgetroefd met ♦ H door West. De laatste speelt ♥, die je troeft.


1. Hoeveel punten mis je en hoe zitten die verdeeld **18: 8 + 8 + 2?(♣V)**
2. Wat is de kaartverdeling?
3. Hoe speel je de ♣ kleur?

Verdeling Oost is 7114, dus west 2♣.

Kans op ♣ V bij oost: $4/6 = 2/3$

5

♠ V 8 4
 ♥ H 3 2
 ♦ A V 7 5 3
 ♣ V 2



♠ A 7 6
 ♥ A B 10 6 5 4
 ♦ B 4
 ♣ B 3

West Noord Oost Zuid

pas 1♦ pas 1♥
 pas 1SA pas 3♥
 Pas 4♥ pas pas
 pas

West start ♣A en ♣H. Daarna ♠ 10, via ♠ V, ♠ H voor ♠ A

Zuid speelt nu ♦ B, gedekt door ♦ H voor het aas.

1. Hoeveel punten mis je en hoe zitten die verdeeld **16, west al 10, pas**
2. Wie heeft ♥ V? **oost**
3. Hoeveel verliezers heb je ? **Nog 2♠, 1♥**
4. Maak een speelplan (de troef zit 3-1)

Je moet een ♦ vrijtroeven en ♥ H bewaren als entree. Kan alleen bij 3-3 zitsel ♦ (maar 1 entree). Begin met kleine ♥ naar de ♥ B. Dan ♥ A, dan ♦ naar ♦ V, ♦ getroefd. ♥ H (trekt laatste troef en bereikt vrije ♦ (♦ H goed en 3-3 = 17,5%))

6

♠ 10 9 5 4

♥ A

♦ A V 9 2

♣ A 6 5 4

♠ V 7 3

♥ H V B 10 8 6 3

♦ 5

♣ B 2

West Noord Oost Zuid

1♣

1♦

1♥

2♦

pas

pas

3♥

Pas

3 SA

pas

4♥

Pas

pas

pas

West start ♦ B.

1. Hoeveel punten mis je en hoe zitten die verdeeld **17**

2. Hoe is de ♦ kleur verdeeld? **5-3**

3. Hoeveel verliezers heb je? **3♠, 1♣**

4. Kun je een extra ♦ slag maken? (zo ja, hoe)

Extra ♦ slag? Van Bxx zou west de x starten. Vermoedelijk heeft hij B10x.

Neem Aas, troef kleine ♦ af en speel later ♦ V voor: Oost moet dekken en smoort de 10. de ♦ 9 wordt nu hoog.